



**Prefeitura
de Rolândia**

SECRETARIA MUNICIPAL DE EDUCAÇÃO
ATIVIDADES COMPLEMENTARES DE ESTUDO – COVID 19



ROTEIRO DE ATIVIDADES COMPLEMENTARES DE ESTUDO – COVID 19

2º ROTEIRO 2021

ESCOLA MUNICIPAL SÃO FERNANDO

PROFESSORA: JULIANA

TURMA: EJA ETAPA 2

COMPONENTES CURRICULARES: LÍNGUA PORTUGUESA E MATEMÁTICA.

PERÍODO DE REALIZAÇÃO: 01 A 05 DE MARÇO.

ALUNO(A): _____

O QUE VOCÊ VAI ESTUDAR:	<ul style="list-style-type: none">➤ LÍNGUA PORTUGUESA: LEITURA E INTERPRETAÇÃO DE DIFERENTES TIPOS TEXTUAIS; ESCRITA DE PALAVRAS.➤ MATEMÁTICA: NUMERAÇÃO (DEZENAS / DÚZIA). MEDIDAS DE TEMPO: RELAÇÕES ENTRE HORAS E MINUTOS.
PARA QUE VAMOS ESTUDAR ESSES CONTEÚDOS?	<p>LÍNGUA PORTUGUESA: DOMÍNIO DO MECANISMO E DOS RECURSOS DO SISTEMA DE REPRESENTAÇÃO ESCRITA, COMPREENDENDO SUAS FUNÇÕES; INTERESSE PELA LEITURA E ESCRITA COMO FONTES DE INFORMAÇÃO, APRENDIZAGEM.</p> <p>MATEMÁTICA: RECONHECIMENTO DE NÚMEROS NO CONTEXTO DIÁRIO; LEITURA ,ESCRITA E COMPREENSÃO DE NÚMEROS; LER E REGISTRAR AS HORAS A PARTIR DA LEITURA REALIZADA EM RELÓGIOS DIGITAIS E ANALÓGICOS.</p>
COMO VAMOS ESTUDAR OS CONTEÚDOS?	<ul style="list-style-type: none">➤ COM AJUDA DE ALGUM FAMILIAR ORGANIZE UM AMBIENTE TRANQUILO E FIQUE ATENTO ÀS EXPLICAÇÕES DADAS PELA PROFESSORA NO WHATSAPP.➤ ORGANIZE-SE COM AS ATIVIDADES PARA NÃO ACUMULAR.➤ SE TIVER DÚVIDA PERGUNTE NO WHATSAPP PARA A PROFESSORA PARA NOVA EXPLICAÇÃO.
COMO VAMOS REGISTRAR O QUE APRENDEMOS?	<ul style="list-style-type: none">➤ BUSCANDO AS ATIVIDADES IMPRESSAS NA ESCOLA. LENDO E PREENCHENDO DE ACORDO COM AS ORIENTAÇÕES AS ATIVIDADES ENVIADAS COMPLETAMENTE, SEM DEIXAR NADA EM BRANCO OU INCOMPLETO.

- | | |
|--|---|
| | <ul style="list-style-type: none">➤ OUVINDO ATENTAMENTE AS EXPLICAÇÕES QUE A PROFESSORA ENVIA PELO WHATSAPP E CHAMANDO QUANDO NÃO ENTENDER OU CONSEGUIR FAZER AS ATIVIDADES.➤ DEVOLVENDO AS ATIVIDADES SEMANALMENTE PARA QUE A PROFESSORA FAÇA AS CORREÇÕES NECESSÁRIAS. |
|--|---|

ESCOLA MUNICIPAL SÃO FERNANDO.

ROLÂNDIA, 01 DE MARÇO DE 2021.

HOJE É SEGUNDA-FEIRA.

LÍNGUA PORTUGUESA

A Água

A água é o bem mais precioso do planeta. Todos os seres vivos (pessoas, animais e plantas) precisam de água para viver. Nós utilizamos a água para quase tudo em nossa vida. Ela serve para beber, lavar, cozinhar, entre tantas outras coisas.

A água é usada nas indústrias, nas casas, escolas, hospitais e em todos os lugares onde há pessoas.

Fazer o bom uso da água é dever de todos! O planeta agradece!

Atividades:

1) Marque a resposta certa:

a) Segundo o texto, qual é a maior riqueza do planeta?

- (A) Os seres vivos
- (B) As indústrias
- (C) A água

b) Complete de acordo com o texto:

a) A água serve para _____, _____, _____, entre tantas outras coisas.

b) Quais os lugares onde a água é usada? _____

c) Marque as alternativas que demonstram o uso adequado da água.

- () Lavar as vasilhas com a torneira totalmente aberta.
- () Coletar água da chuva para lavar roupas e molhar as plantas.
- () Reaproveitar água da máquina para lavar a calçada.
- () Tomar banho demorado com o chuveiro aberto.
- () Não deixar a torneira aberta enquanto escova os dentes ou faz a barba.
- () Conserve a descarga regulada e conserte vazamentos.

MATEMÁTICA



RESPONDA AS QUESTÕES ABAIXO ESCRIVENDO OS NÚMEROS DE SUA VIDA:

A) IDADE = _____

B) DATA DE NASCIMENTO = _____

C) NÚMERO DO ENDEREÇO = _____

D) QUANTIDADE DE FILHOS = _____

E) QUANTOS LOCAIS QUE VOCÊ TRABALHOU = _____

F) TELEFONE = _____

G) NÚMERO DO ÔNIBUS QUE VOCÊ UTILIZA = _____

H) QUANTIDADE DE IRMÃOS = _____

I) SEU PESO = _____

J) PESSOAS QUE MORAM EM SUA CASA = _____



ESCOLA MUNICIPAL SÃO FERNANDO.


ROLÂNDIA, 02 DE MARÇO DE 2021.

HOJE É TERÇA- FEIRA.

LÍNGUA PORTUGUESA

LETRAS DO ALFABETO

- 1) Copie de revista ou jornal nomes de coisas e objetos iniciados com cada letra do alfabeto.

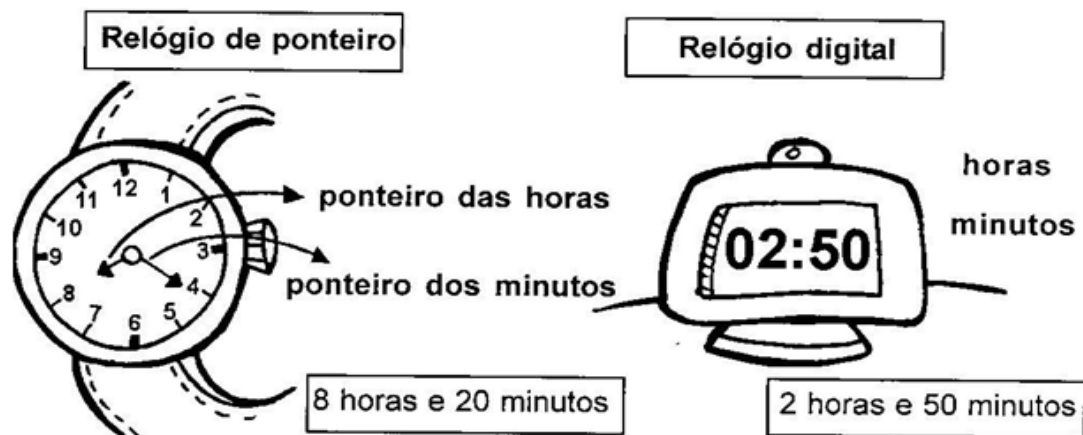


MATEMÁTICA


MEDIDA DE TEMPO:

O tempo pode ser medido de diversas maneiras.

O dia é dividido em horas, as horas, em minutos, e os minutos, em segundos.

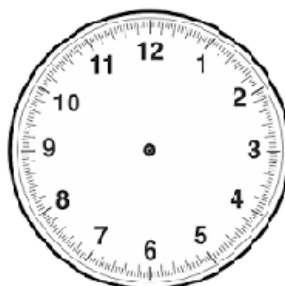


1- De acordo com o relógio digital, marque as horas no relógio de ponteiro, conforme exemplo.



2- Marque nos relógios aquilo que se pede:

a) O horário que você acorda:



b) O horário que você almoça:



c) O horário que costuma dormir:



ESCOLA MUNICIPAL SÃO FERNANDO.

ROLÂNDIA, 03 DE MARÇO DE 2021.

HOJE É QUARTA- FEIRA.

LÍNGUA PORTUGUESA

FAÇA A SUA LISTA DE COMPRAS SEPARADO-AS POR SEÇÕES:

MAÇÃ	SABONETE	ARROZ	SABÃO EM PÓ	BATATA	LÁPIS
ESPONJA	PASTA DE DENTES	RÉGUA	PÃO	BORRACHA	
PAPEL HIGIÊNICO	CANETA	CARNE	CADERNO	FEIJÃO	COLA
MAMÃO	AMACIANTE	APONTADOR	FRANGO	GUACHE	ÁGUA
SANITÁRIA	ÁLCOOL	BANANA	PINCEL	BOLACHA	

ALIMENTOS	MATERIAL DE LIMPEZA	MATERIAIS ESCOLARES

a) Escreva seus 3 (três) alimentos preferidos que fazem parte da lista de compras:

b) Cite 4 (quatro) itens da lista que se iniciam com vogais: (a, e, i, o,u).

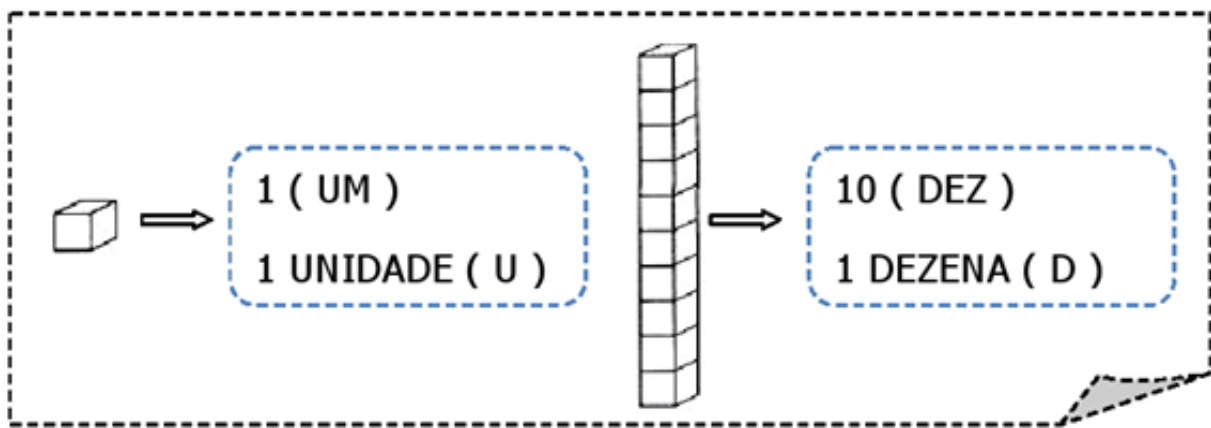
MATEMÁTICA

QUANTOS ITENS TEM EM CADA SEÇÃO DA LISTA DE COMPRAS:

ALIMENTOS:	
MATERIAL DE LIMPEZA:	
MATERIAIS ESCOLARES:	

DEZENAS E UNIDADES:

SABENDO QUE NO MATERIAL DOURADO:



1- Descubra quais são os números representados pelo material dourado e escreva.

D	U

D	U

D	U

D	U

2- Decomponha os números em dezenas e unidades. Siga o exemplo:

18

D	U
1	8

23

D	U

36

D	U

60

D	U

ESCOLA MUNICIPAL SÃO FERNANDO.

ROLÂNDIA, 04 DE MARÇO DE 2021.

HOJE É QUINTA-FEIRA.

LÍNGUA PORTUGUESA

COMO SÃO FORMADAS AS PALAVRAS?

AS PALAVRAS SÃO FORMADAS POR PARTES. ESSAS PARTES SE CHAMAM SÍLABAS. POR EXEMPLO A PALAVRA BOLA. TEM 2 (DUAS) SÍLABAS.

BO-LA

1 - 2

AGORA É COM VOCÊ:

1- Forme palavras com as sílabas abaixo, depois conte as sílabas:

MA	RA	DO	LE	BA	BI
CA	TE	LA	VI	PE	PA
NA	A	BO	DA	PI	CO
TO	RO	ÃO	BU	TA	O

_____	A PALAVRA TEM _____ SÍLABAS
_____	A PALAVRA TEM _____ SÍLABAS
_____	A PALAVRA TEM _____ SÍLABAS
_____	A PALAVRA TEM _____ SÍLABAS

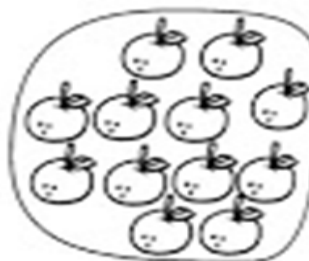
MATEMÁTICA

VAMOS TRABALHAR: DÚZIA E MEIA DÚZIA

ESTE CONJUNTO TEM 12 ELEMENTOS.
CADA ELEMENTO REPRESENTA 1 UNIDADE.

12 UNIDADES FORMAM UMA DÚZIA.

OBSERVE AGORA:



AQUI TEMOS 6 ELEMENTOS EM CADA CONJUNTO
QUE REPRESENTAM A METADE DE UMA DÚZIA.
OU SEJA:

6 UNIDADES REPRESENTAM MEIA DÚZIA.

ESCREVA POR EXTENSO O NUMERAL **12**:_____.

1- COMPLTE :

* UMA DÚZIA DE OVOS SÃO _____ OVOS.

* DUAS DÚZIAS DE OVOS SÃO _____ OVOS.

* MEIA DÚZIA DE OVOS SÃO _____ OVOS.

* UMA DÚZIA E MEIA DE OVOS SÃO _____
OVOS.



2- Joana comprou 2 dúzias de ovos para sua mãe, porém no caminho até sua casa 4 ovos se quebraram. Com quantos ovos Joana chegou em casa?

R:_____

ESCOLA MUNICIPAL SÃO FERNANDO.

ROLÂNDIA, 05 DE MARÇO DE 2021.

HOJE É SEXTA- FEIRA.

LÍNGUA PORTUGUESA

1- Leia as palavras abaixo relacionadas com alimentos.

**MACARRÃO - ARROZ - FEIJÃO - BIFE - ESPINAFRE
FRANGO - PEIXE - BATATA - OVO - ALFACE**

a) Reescreva as palavras do quadro em ordem alfabética.

b) Separe as palavras do quadro em sílabas.

MACARRÃO _____	ARROZ _____
FEIJÃO _____	BIFE _____
ESPINAFRE _____	FRANGO _____
PEIXE _____	BATATA _____
OVO _____	ALFACE _____

MATEMÁTICA

1- Sabendo que 1 DÚZIA é igual a 12 e uma DEZENA é igual a 10, realize as seguintes equações:

- a) 1 dúzia + 2 dezenas= _____
- b) 2 dúzias + 15 unidades= _____
- c) 1 dezena + 18 unidades= _____
- d) 1 dúzia + 1 dezena= _____

2- Represente com desenho o total de 2 dezenas + meia dúzia de maçãs.